

認識摺紙圖樣

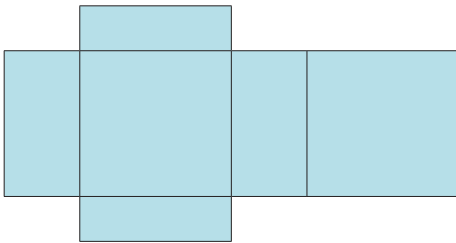
A. 長方體的摺紙圖樣

小芬把禮物放進一個自製的長方體中，準備送給朋友。

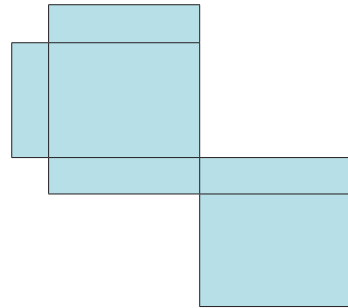


下列的摺紙圖樣可以摺成長方體。

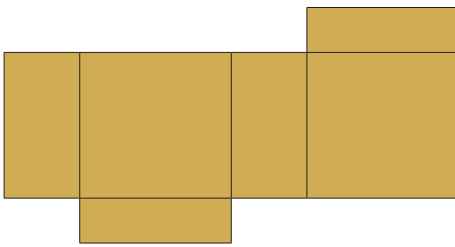
(a)



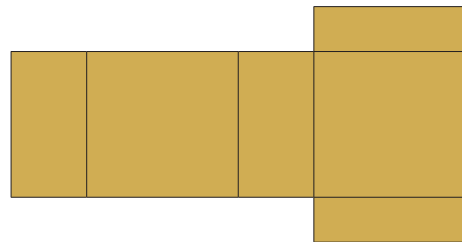
(b)



(c)




(d)




下列的摺紙圖樣不可以摺成長方體。

(e)



(f)

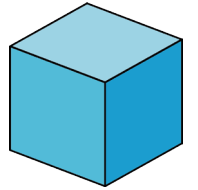


可以摺成長方體的摺紙圖樣需要有 3 組對應的面，每組對應的面的形狀和面積都相同。
這些面可能全部是長方形，或最多其中一組是正方形。

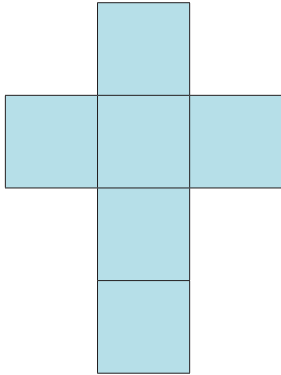


B. 立方體的摺紙圖樣

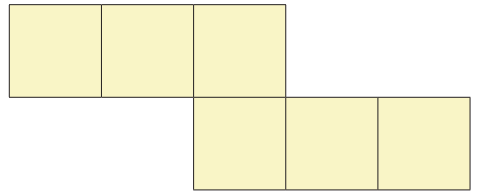
下列的摺紙圖樣可以摺成立方體。



(a)

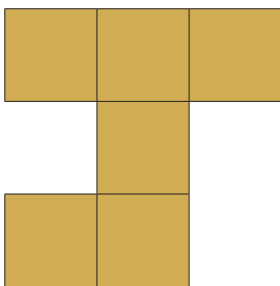


(b)

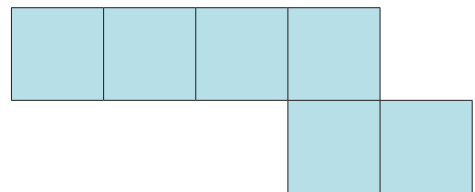


下列的摺紙圖樣不可以摺成立方體。

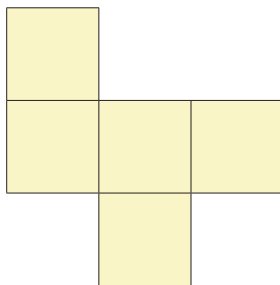
(c)



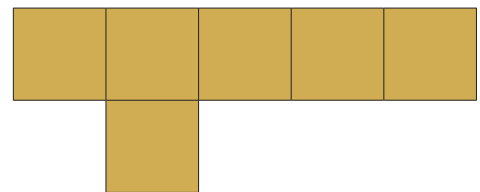
(d)



(e)



(f)



可以摺成立方體的摺紙圖樣，必須要有 6 個正方形。

